


Pasaulio šalių kryptys (pagal GILĘ)

Vardas, pavardė: _____ Klasė: _____ Data: _____

Klausimas #1

Kokia pasaulio šalių kryptis pažymėta klaustuku?

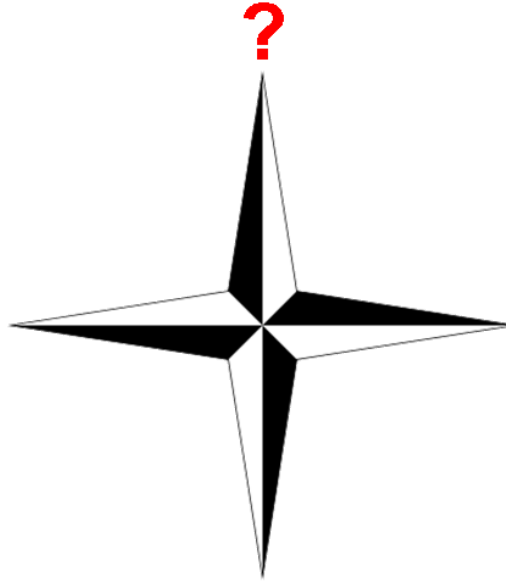


- rytai
- vakarai
- šiaurė
- pietūs

Taškų skaičius už teisingą atsakymą: 1 Surinkta taškų: _____

Klausimas #2

Kokia pasaulio šalių **kryptis** pažymėta klaustuku?



- šiaurė
- pietūs
- vakarai
- rytai

Taškų skaičius už teisingą atsakymą: 1 Surinkta taškų: _____

Klausimas #3

Kokia pasaulio šalių **kryptis** pažymėta klaustuku?




- pietūs
- vakarai
- šiaurė
- rytai

Taškų skaičius už teisingą atsakymą: 1 Surinkta taškų: _____

Klausimas #4

Kokia pasaulio šalių kryptis pažymėta klaustuku?



- šiaurė
- vakarai
- rytai
- pietūs

Taškų skaičius už teisingą atsakymą: **1** Surinkta taškų: _____

Klausimas #5

Kiekvienam sakiniui parink teisingas pabaigas.

- 1 Orientuotis pagal gamtos objektus ... _____ ... šiaurinėje pusėje.
- 2 Atviroje vietoje augančių medžių šakos ... _____ ... yra ilgesnės pietinėje pusėje.
- 3 Šiaurinėje pusėje medžių žievė ... _____ ... nėra tikslu.
- 4 Pietinėje pusėje spygliuočių medžių kamienai ... _____ ... grubesnė.
- 5 Akmenys ir medžiai labiau apkerpėja ... _____ ... sakuotesni.

Klausimas #6

Pažymėk teisingus ir klaidingus teiginius.

1. Yra Mažieji ir Didieji Grįžulo ratai. taip ne
2. Miško kvartalų numeriai einant iš šiaurės link pietų didėja. taip ne
3. Šiaurinėje pusėje uogos prinoksta greičiau. taip ne
4. Skruzdėlynai beveik visada yra pietinėje medžių pusėje. taip ne
5. Pietinėje kelmų pusėje rievės yra platesnės. taip ne

Taškų skaičius už teisingą atsakymą: 5 Surinkta taškų: _____

Klausimas #7

Kokiu prietaisu naudojantis tiksliai galima nustatyti horizonto kryptis?

Atsakymas: _____

Taškų skaičius už teisingą atsakymą: 1 Surinkta taškų: _____

Klausimas #8

Pažymėk pagrindines horizonto kryptis.

- šiaurė
- šiaurinė žvaigždė
- rytai
- Grįžulo ratai
- pietūs
- vakarai

Taškų skaičius už teisingą atsakymą: 4 Surinkta taškų: _____

Klausimas #9

Ką rodo kompasė raudona rodyklė?

- pietus
- vakarus
- šiaurę
- rytus

Taškų skaičius už teisingą atsakymą: 1 Surinkta taškų: _____

Klausimas #10

Pagal ką galima orientuotis pasiklydus miške nakties metu?

- pagal saulę
- pagal Šiaurinę žvaigždę
- pagal medžius
- orientuotis išvis neįmanoma, nes yra tamsu

Taškų skaičius už teisingą atsakymą: 1 Surinkta taškų: _____

Klausimas #11

Kokia kryptis visada yra žemėlapiu viršuje?

- šiaurė
- rytai
- vakarai
- pietūs

Taškų skaičius už teisingą atsakymą: 1 Surinkta taškų: _____

Klausimas #12

Kas išrado kompasą?




- latviai
- lietuviai
- italai
- kinai
- norvegai

Klausimas #13

Taškų skaičius už teisingą atsakymą: 1 Surinkta taškų: _____

Kas čia pavaizduota?



- orientacininkų kompasas
- skaitmeninis kompasas
- sportinis kompasas
- pirmasis kinų kompasas

Taškų skaičius už teisingą atsakymą: 1 Surinkta taškų: _____

Maksimalus taškų skaičius: 24


Surinkta taškų: _____

Pažymys: _____

Pasaulio šalių kryptys (pagal GILE) - ATSAKYMAI

Klausimas #1

Kokia pasaulio šalių **kryptis** pažymėta klaustuku?

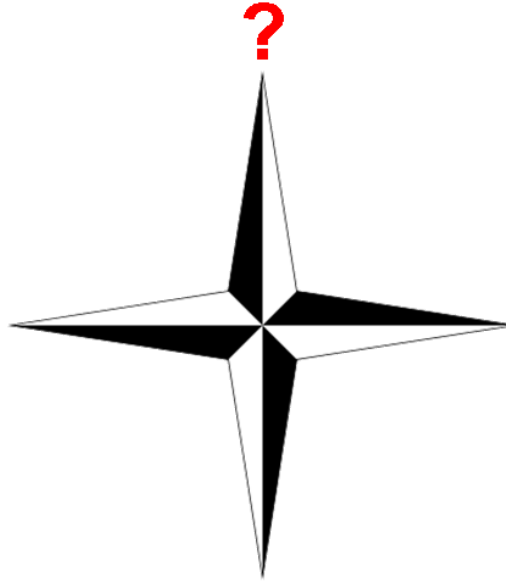


- rytai
- vakarai
- šiaurė
- pietūs

Taškų skaičius už teisingą atsakymą: 1

Klausimas #2

Kokia pasaulio šalių **kryptis** pažymėta klaustuku?




- šiaurė
- pietūs
- vakarai
- rytai

Taškų skaičius už teisingą atsakymą: 1

Klausimas #3

Kokia pasaulio šalių **kryptis** pažymėta klaustuku?




- pietūs
- vakarai
- šiaurė
- rytai

Taškų skaičius už teisingą atsakymą: 1

Klausimas #4

Kokia pasaulio šalių **kryptis** pažymėta klaustuku?



- šiaurė
- vakarai
- rytai
- pietūs

Taškų skaičius už teisingą atsakymą: 1

Klausimas #5

Kiekvienam sakiniui parink teisingas pabaigas.

- | | |
|--|---|
| 1 Orientuotis pagal gamtos objektus ... | <u>5</u> ... šiaurinėje pusėje. |
| 2 Atviroje vietoje augančių medžių šakos ... | <u>2</u> ... yra ilgesnės pietinėje pusėje. |
| 3 Šiaurinėje pusėje medžių žievė ... | <u>1</u> ... nėra tikslu. |
| 4 Pietinėje pusėje spygliuočių medžių kamienai ... | <u>3</u> ... grubesnė. |
| 5 Akmenys ir medžiai labiau apkerpėja ... | <u>4</u> ... sakuotesni. |

Klausimas #6

Pažymėk teisingus ir klaidingus teiginius.

1. Yra Mažieji ir Didieji Grįžulo ratai. taip ne
2. Miško kvartalų numeriai einant iš šiaurės link pietų didėja. taip ne
3. Šiaurinėje pusėje uogos prinoksta greičiau. taip ne
4. Skruzdėlynai beveik visada yra pietinėje medžių pusėje. taip ne
5. Pietinėje kelmų pusėje rievės yra platesnės. taip ne

Taškų skaičius už teisingą atsakymą: 5

Klausimas #7

Kokiu prietaisu naudojantis tiksliai galima nustatyti horizonto kryptis?

Atsakymas: kompasu arba kompasas arba

Taškų skaičius už teisingą atsakymą: 1

Klausimas #8

Pažymėk pagrindines horizonto kryptis.

- šiaurė
- šiaurinė žvaigždė
- rytai
- Grįžulo ratai
- pietūs
- vakarai

Taškų skaičius už teisingą atsakymą: 4

Klausimas #9

Ką rodo kompasė raudona rodyklė?

- pietus
- vakarus
- šiaurę
- rytus

Taškų skaičius už teisingą atsakymą: 1

Klausimas #10

Pagal ką galima orientuotis pasiklydus miške nakties metu?

- pagal saulę
- pagal Šiaurinę žvaigždę
- pagal medžius
- orientuotis išvis neįmanoma, nes yra tamsu

Taškų skaičius už teisingą atsakymą: 1

Klausimas #11

Kokia kryptis visada yra žemėlapiu viršuje?

- šiaurė
- rytai
- vakarai
- pietūs

Taškų skaičius už teisingą atsakymą: 1

Klausimas #12

Kas išrado kompasą?




- latviai
- lietuviai
- italai
- kinai
- norvegai

Taškų skaičius už teisingą atsakymą: 1

Klausimas #13

Kas čia pavaizduota?



- orientacininkų kompasas
- skaitmeninis kompasas
- sportinis kompasas
- pirmasis kinų kompasas

Taškų skaičius už teisingą atsakymą: 1