

### 3kl. Pasaulio pažinimo testas Nr.5 (pagal GILĘ)

---

Vardas, pavardė: \_\_\_\_\_ Klasė: \_\_\_\_\_ Data: \_\_\_\_\_

#### Klausimas #1

---

## 1. Kad būtume sveiki...

- pakanka kartais padaryti mankštą.
- pakanka plauti rankas šaltu vandeniu.
- svarbu pakankamai miegoti, tinkamai maitintis, grūdintis vandeniu, oru, saule, aktyviu judėjimu.

Taškų skaičius už teisingą atsakymą: 1 Surinkta taškų: \_\_\_\_\_

#### Klausimas #2

---

## 2. Surask **visus** teisingus teiginius.

- Mankšta stiprina kūną, teikia jam lankstumo, gerina širdies darbą, stiprina raumenis.
- Grūdinantis rečiau peršąlama, nes organizmas išmoksta prisitaikyti prie kintančių aplinkos sąlygų.
- Užsigrūdinę žmonės dažniau serga peršalimo ligomis.
- Grūdintis reikia pamažėle.
- Šaltas vanduo kenkia sveikatai.
- Grūdintis galima ir tada, kai sergama.

Taškų skaičius už teisingą atsakymą: 3 Surinkta taškų: \_\_\_\_\_

#### Klausimas #3

---

## 3. Akmenys labiau apsamanoja...

- šiaurinėje pusėje.
- pietinėje pusėje.

Taškų skaičius už teisingą atsakymą: 1 Surinkta taškų: \_\_\_\_\_

#### Klausimas #4

---

## 4. Medžių žievė labiau suskeldėjusi ...

- pietinėje pusėje.
- šiaurinėje pusėje.

Taškų skaičius už teisingą atsakymą: 1 Surinkta taškų: \_\_\_\_\_

#### Klausimas #5

---

## 5. Skruzdėlynai stūkso ...

- šiaurinėje medžių pusėje.
- pietinėje medžių pusėje.

Taškų skaičius už teisingą atsakymą: 1 Surinkta taškų: \_\_\_\_\_

#### Klausimas #6

---

## 6. Surask **visus** teisingus teiginius.

- Pavasarį sniegas greičiau nutirpsta pietiniame kalvos šlaite.
- Orientuotis pagal gamtos objektus yra tikslu.
- Nustatyti pasaulio šalių kryptis galima pagal Saulę, žvaigždes, vietos požymius.
- Nustatyti pasaulio šalių kryptis galima tik pagal žvaigždes.

- Jei žiūri į Šiaurinę žvaigždę, tai šiaurė prieš tave, o už nugaros – pietūs.
- Šiaurinėje kelmų pusėje metinės rievės yra platesnės.

Taškų skaičius už teisingą atsakymą: 3 Surinkta taškų: \_\_\_\_\_

Klausimas #7

## 7. Pagal kurį lentelėje pateiktą požymį **delfinai** ir **šikšnosparniai** priskiriami **žinduolių** klasei?

	<b>Delfinas</b> 	<b>Šikšnosparnis</b> 
<b>Aplinka</b>	Vanduo	Sausuma
<b>Klausa</b>	Labai gerai išsivysčiusi	Labai gerai išsivysčiusi
<b>Mityba</b>	Žuvis	Vaisiai, žiedų nektaras, vabzdžiai
<b>Dauginimasis</b>	Veda gyvus jaunikius	Veda gyvus jaunikius

- Pagal dauginimąsi.
- Pagal aplinką.
- Pagal klausą.
- Pagal mitybą.

Taškų skaičius už teisingą atsakymą: 1 Surinkta taškų: \_\_\_\_\_

Klausimas #8

## 8. Pažymėk atsakymą, kuriame išvardinti tik **graužikai**.

- Žiurkėnas, kormis, varna.
- Šinšila, nutrija, voverė.
- Gyvatė, karvė, lokys.
- Pelė, antis, delfinas.

Taškų skaičius už teisingą atsakymą: 1 Surinkta taškų: \_\_\_\_\_

Klausimas #9

## 9. Pažymėk atsakymą, kuriame išvardinti tik **žinduoliai**.

- Pelė, antis, delfinas.
- Žiurkėnas, kormis, varna.
- Gyvatė, karvė, lokys.
- Šinšila, nutrija, voverė.

Taškų skaičius už teisingą atsakymą: 1 Surinkta taškų: \_\_\_\_\_

Klausimas #10

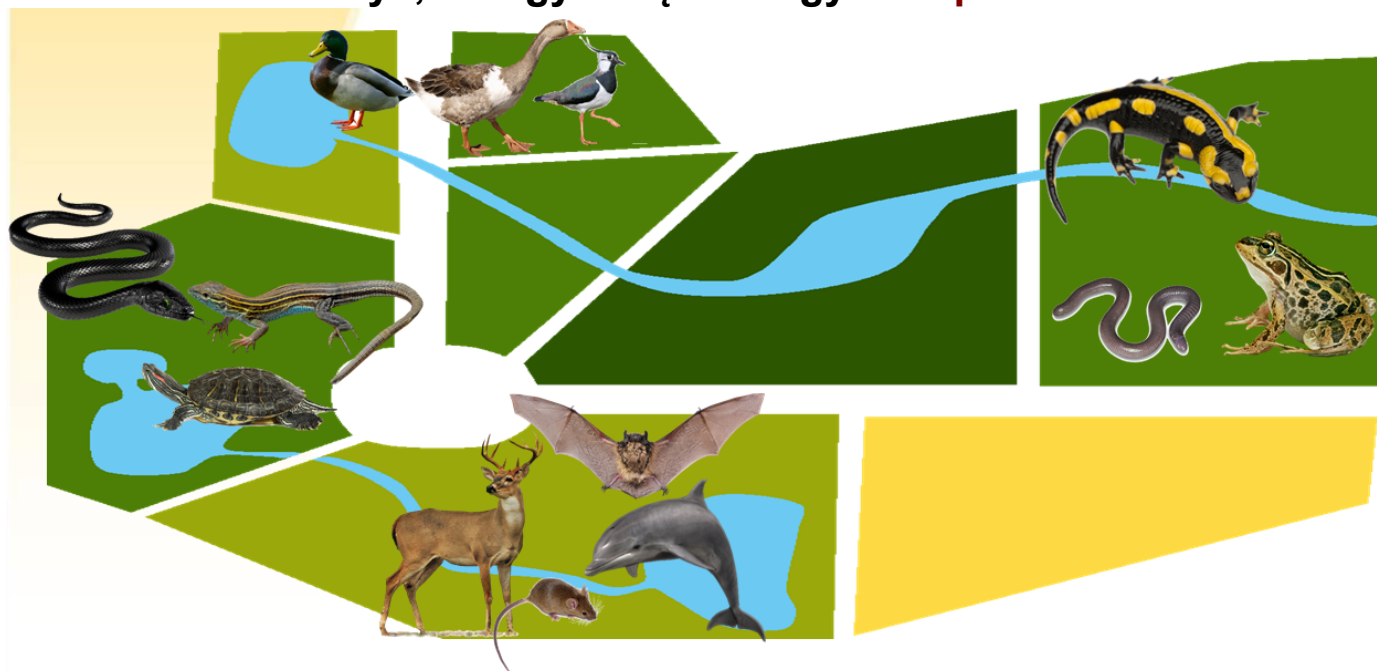
## 10. Kuriai gyvūnų grupei (klasei) priskiriami **graužikai**?

- Ropliams.
- Varliagyviams.
- Vabzdžiams.
- Žinduoliams

Taškų skaičius už teisingą atsakymą: 1 Surinkta taškų: \_\_\_\_\_

Klausimas #11

11. Zoologijos sode gyvūnai apgyvendinti grupėmis.  
Nurodyk, kuri gyvūnų klasė gyvena **pietuose**?

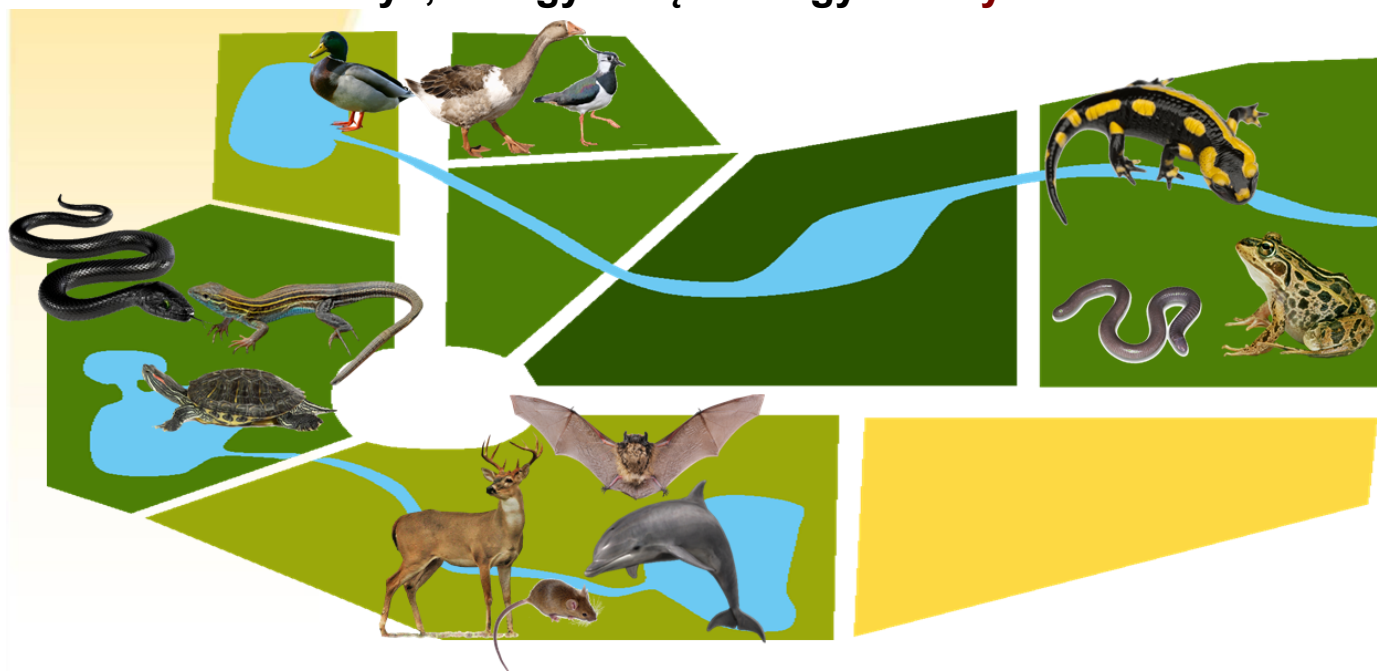


- Žinduoliai.
- Paukščiai.
- Varliagyviai.
- Ropliai.

Taškų skaičius už teisingą atsakymą: 1 Surinkta taškų: \_\_\_\_\_

Klausimas #12

12. Zoologijos sode gyvūnai apgyvendinti grupėmis.  
Nurodyk, kuri gyvūnų klasė gyvena **rytuose**?



- Žinduoliai.
- Paukščiai.
- Ropliai.
- Varliagyviai.

Taškų skaičius už teisingą atsakymą: 1 Surinkta taškų: \_\_\_\_\_

### 13. Surask **visus** teisingus teiginius.

- Stuburiniai turi šonkaulius, kaukolę, stuburą.
- Visi stuburiniai veda gyvus jauniklius.
- Bestuburiai turi kaukolę, šonkaulius.
- Stuburiniai – tai žinduoliai, paukščiai, ropliai, varliagyviai, žuvys.

Taškų skaičius už teisingą atsakymą: 1 Surinkta taškų: \_\_\_\_\_

### 14. Pažymėk **bebro** kaukolę?



Taškų skaičius už teisingą atsakymą: 1 Surinkta taškų: \_\_\_\_\_

Maksimalus taškų skaičius: 18 Surinkta taškų: \_\_\_\_\_ Pažymys: \_\_\_\_\_

Klausimas #1

---

## 1. Kad būtume sveiki...

- pakanka kartais padaryti mankštą.
- pakanka plauti rankas šaltu vandeniu.
- svarbu pakankamai miegoti, tinkamai maitintis, grūdintis vandeniu, oru, saule, aktyviu judėjimu.

Taškų skaičius už teisingą atsakymą: 1

Klausimas #2

---

## 2. Surask **visus** teisingus teiginius.

- Mankšta stiprina kūną, teikia jam lankstumo, gerina širdies darbą, stiprina raumenis.
- Grūdinantis rečiau peršąlama, nes organizmas išmoksta prisitaikyti prie kintančių aplinkos sąlygų.
- Užsigrūdinę žmonės dažniau serga peršalimo ligomis.
- Grūdintis reikia pamažėle.
- Šaltas vanduo kenkia sveikatai.
- Grūdintis galima ir tada, kai sergama.

Taškų skaičius už teisingą atsakymą: 3

Klausimas #3

---

## 3. Akmenys labiau apsamanoja...

- šiaurinėje pusėje.
- pietinėje pusėje.

Taškų skaičius už teisingą atsakymą: 1

Klausimas #4

---

## 4. Medžių žievė labiau suskeldėjusi ...

- pietinėje pusėje.
- šiaurinėje pusėje.

Taškų skaičius už teisingą atsakymą: 1

Klausimas #5

---

## 5. Skruzdėlynai stūkso ...

- šiaurinėje medžių pusėje.
- pietinėje medžių pusėje.

Taškų skaičius už teisingą atsakymą: 1

Klausimas #6

---

## 6. Surask **visus** teisingus teiginius.

- Pavasarį sniegas greičiau nutirpsta pietiniame kalvos šlaite.
- Orientuotis pagal gamtos objektus yra tikslu.
- Nustatyti pasaulio šalių kryptis galima pagal Saulę, žvaigždes, vietos požymius.
- Nustatyti pasaulio šalių kryptis galima tik pagal žvaigždes.
- Jei žiūri į Šiaurinę žvaigždę, tai šiaurė prieš tave, o už nugaros – pietūs.
- Šiaurinėje kelmų pusėje metinės rievės yra platesnės.

Taškų skaičius už teisingą atsakymą: 3

## 7. Pagal kurį lentelėje pateiktą požymį **delfinai** ir **šikšnosparniai** priskiriami **žinduolių klasei**?

	<b>Delfinas</b> 	<b>Šikšnosparnis</b> 
<b>Aplinka</b>	Vanduo	Sausuma
<b>Klausa</b>	Labai gerai išsivysčiusi	Labai gerai išsivysčiusi
<b>Mityba</b>	Žuvis	Vaisiai, žiedų nektaras, vabzdžiai
<b>Dauginimasis</b>	Veda gyvus jauniklius	Veda gyvus jauniklius

- Pagal dauginimąsi.
- Pagal aplinką.
- Pagal klausą.
- Pagal mitybą.

Taškų skaičius už teisingą atsakymą: 1

## Klausimas #8

## 8. Pažymėk atsakymą, kuriame išvardinti tik **graužikai**.

- Žiurkėnas, kormis, varna.
- Šinšila, nutrija, voverė.
- Gyvatė, karvė, lokys.
- Pelė, antis, delfinas.

Taškų skaičius už teisingą atsakymą: 1

## Klausimas #9

## 9. Pažymėk atsakymą, kuriame išvardinti tik **žinduoliai**.

- Pelė, antis, delfinas.
- Žiurkėnas, kormis, varna.
- Gyvatė, karvė, lokys.
- Šinšila, nutrija, voverė.

Taškų skaičius už teisingą atsakymą: 1

## Klausimas #10

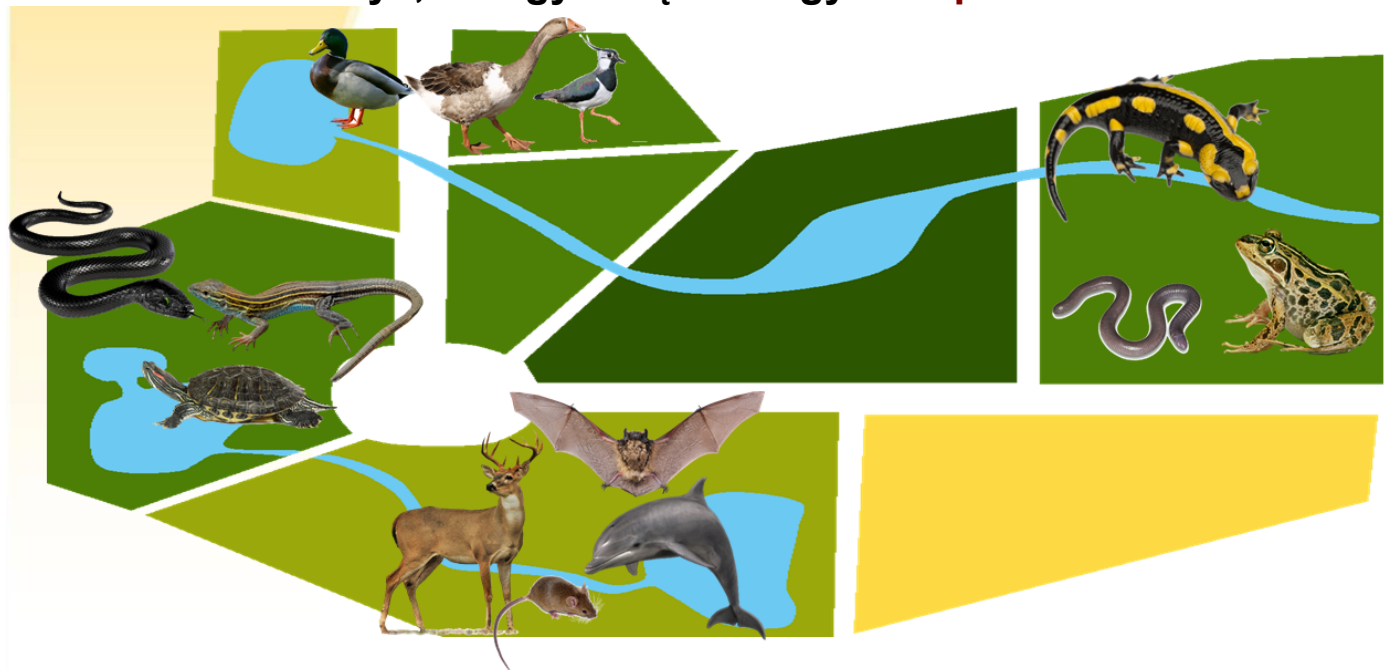
## 10. Kuriai gyvūnų grupei (klasei) priskiriami **graužikai**?

- Ropliams.
- Varliagyviams.
- Vabzdžiams.
- Žinduoliams

Taškų skaičius už teisingą atsakymą: 1

## Klausimas #11

11. Zoologijos sode gyvūnai apgyvendinti grupėmis.  
Nurodyk, kuri gyvūnų klasė gyvena **pietuose**?

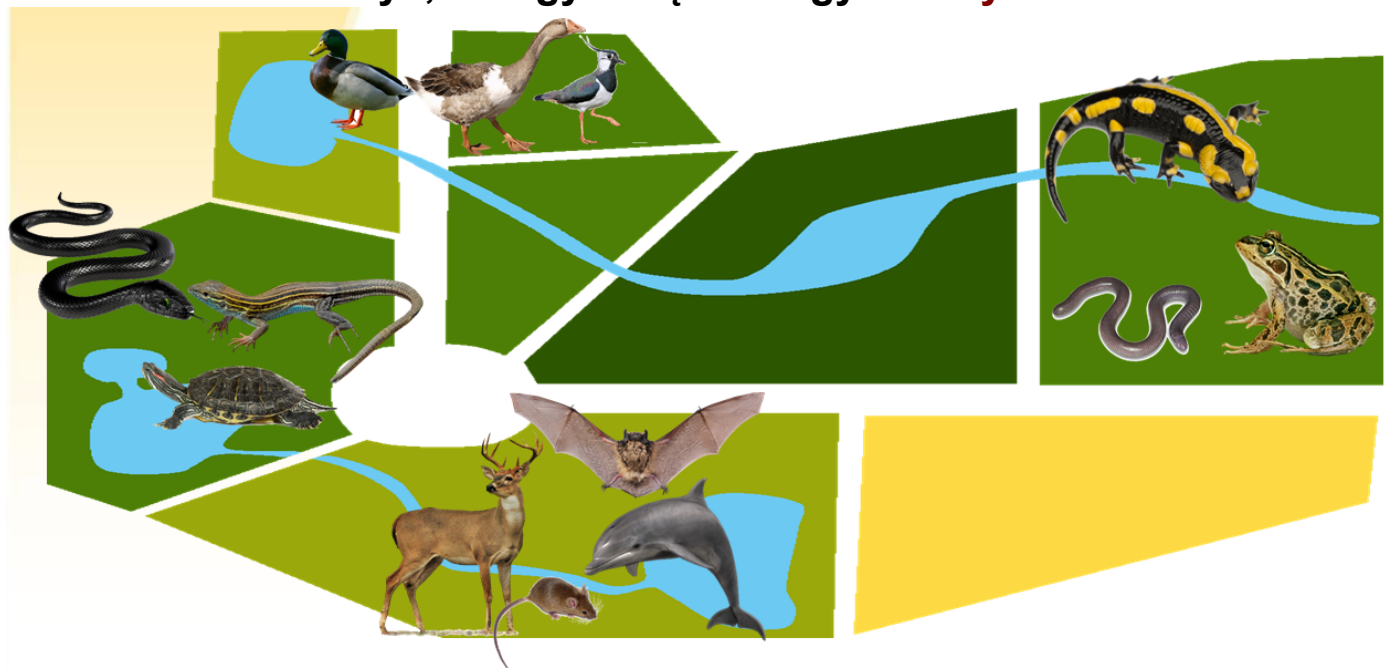


- Žinduoliai.
- Paukščiai.
- Varliagyviai.
- Ropliai.

Taškų skaičius už teisingą atsakymą: 1

Klausimas #12

12. Zoologijos sode gyvūnai apgyvendinti grupėmis.  
Nurodyk, kuri gyvūnų klasė gyvena **rytuose**?



- Žinduoliai.
- Paukščiai.
- Ropliai.
- Varliagyviai.

Taškų skaičius už teisingą atsakymą: 1

### 13. Surask **visus** teisingus teiginius.

- Stuburiniai turi šonkaulius, kaukolę, stuburą.
- Visi stuburiniai veda gyvus jauniklius.
- Bestuburiai turi kaukolę, šonkaulius.
- Stuburiniai – tai žinduoliai, paukščiai, ropliai, varliagyviai, žuvis.

*Taškų skaičius už teisingą atsakymą: 1*

### 14. Pažymėk **bebro** kaukolę?



*Taškų skaičius už teisingą atsakymą: 1*